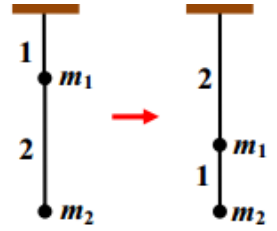


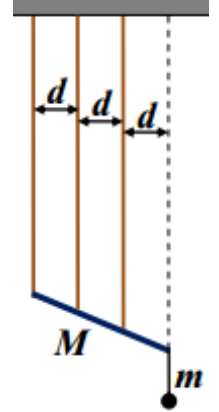
ОЛИМПИАДА ШКОЛЬНИКОВ «Робофест» по ФИЗИКЕ
ЗАКЛЮЧИТЕЛЬНЫЙ (ФИНАЛЬНЫЙ) ЭТАП 2022 года, ТЕОРЕТИЧЕСКИЙ ТУР
БИЛЕТ № 01 (10-11 классы): возможные решения и критерии

Задание 1:

Вопрос: Два легких и прочных отрезка проволоки изготовлены из одного материала и имеют одинаковое поперечное сечение, но длина отрезка 2 в два раза больше, чем у отрезка 1. Когда на них подвесили два тяжелых груза так, как показано на левом рисунке, отрезок 1 растянулся на 2 мм, а отрезок 2 – на 3 мм. Затем отрезки поменяли местами (см. рисунок справа). Каковы теперь величины их деформаций?



Задача: Массивный жесткий стержень подвешен к жесткому горизонтальному потолку на трех легких почти нерастяжимых длинных тросах разной длины, но из одинакового материала и с одинаковым сечением. Их длины подобраны так, чтобы при опускании стержня они натягивались одновременно. В состоянии равновесия все три троса натянуты и вертикальны, причем первый трос прикреплен к левому концу стержня, второй – к точке на расстоянии трети длины стержня от этого конца, а третий – на расстоянии трети длины стержня от правого конца. В этом состоянии первый трос растянут на $\Delta L_0 = 3,0$ мм. Когда к правому концу стержня на отрезке легкой нити подвесили маленький груз массой $m_1 = 100$ г (см. рисунок), величина деформации первого троса стала равна $\Delta L_1 = 1,8$ мм. Какой станет величина деформации этого троса, если массу груза увеличить до $m_2 = 200$ г? А при массе груза, равной $m_3 = 300$ г? Деформации стержня и потолка считать пренебрежимо малыми по сравнению с деформациями тросов.



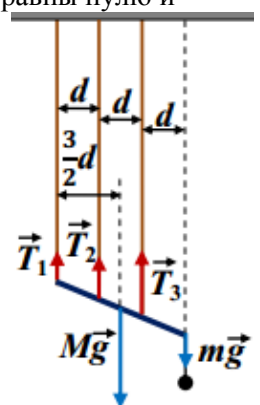
Ответ на вопрос: При одинаковом материале и поперечном сечении коэффициент жесткости отрезка проволоки обратно пропорционален его длине, поэтому, если коэффициент жесткости отрезка 2 обозначить k , то коэффициент жесткости отрезка 1 равен $2k$. В первом случае отрезок 2 растягивается весом второго груза, и его деформация $\Delta L_2 = \frac{m_2 g}{k}$, а деформация отрезка 1, который растягивается суммарным весом

обоих грузов, $\Delta L_1 = \frac{(m_1 + m_2)g}{2k}$. После того, как отрезки поменяли местами, $\Delta L'_1 = \frac{m_2 g}{2k} = \frac{\Delta L_2}{2} = 1,5$ мм и

$$\Delta L'_2 = \frac{(m_1 + m_2)g}{k} = 2\Delta L_1 = 4 \text{ мм.}$$

Правильно определено соотношение коэффициентов жесткости отрезков	2
Правильно определены силы, растягивающие оба отрезка в первом случае	1+1=2
Получены правильные ответы для деформаций обоих отрезков во втором случае (достаточно чисел)	3+3=6
ВСЕГО	10

Решение задачи: Предположим, что все три троса натянуты, то есть силы натяжения не равны нулю и направлены вверх. Рассмотрим равновесие стержня под действием приложенных к нему сил (показаны на рисунке – ясно, что сила натяжения нити, на которой подвешен груз, равна силе тяжести, действующей на этот груз). Условие равновесия сил приводит к уравнению $T_1 + T_2 + T_3 = Mg + mg$ (1), правило моментов (запишем его относительно точки прикрепления первого троса) – к $T_2 \cdot d + T_3 \cdot 2d = Mg \cdot \frac{3}{2}d + mg \cdot 3d$, то есть $T_2 + 2T_3 = \frac{3}{2}Mg + 3mg$ (2). Этих уравнений не хватает для определения сил натяжения. Но у нас есть возможность пренебрегать деформациями стержня и потолка, то есть считать их прямыми. Поэтому величины деформаций тросов прямо пропорционально расстоянию по горизонтали от вершины образованного этими прямыми угла до троса. Поскольку трос 2 находится точно между тросами 1 и 3, величина его деформации есть полусумма деформаций этих тросов: $\Delta L_2 = (\Delta L_1 + \Delta L_3) / 2$. Коэффициенты жесткости тросов обратно пропорциональны их длинам, так что из этого соотношения получаем еще одно уравнение на силы натяжения: $2L_2 T_2 = L_1 T_1 + L_3 T_3$ (3). Ясно, что из этой системы можно найти любую из сил натяжения, но в ответ войдут неизвестные нам соотношения длин тросов. На самом деле для решения данной задачи нам достаточно заметить, что все три уравнения



линейны, и массы стержня и груза входят в эти уравнения также линейно. Поэтому, если выразить силы натяжения T_2 и T_3 из (1) и (2), а затем подставить полученные выражения в (3), то мы получим линейную связь T_1 с M и m . Более того, очевидно, что эта связь будет и однородной – ясно, что при $M = m = 0$ мы должны получить $T_1 = 0$. Итак, для данной задачи существуют такие постоянные (не зависящие от масс) величины A и B , что $T_1 = AM + Bm$. Но это означает, что и деформация первого троса есть линейная функция масс: $\Delta L_1 = aM + bm$, где a и b – постоянные. С учетом двух известных ее значений находим общее выражение:

$$\left\{ \begin{array}{l} \Delta L_0 = aM \\ \Delta L_1 = aM + bm_1 \end{array} \right\} \Rightarrow \left\{ \begin{array}{l} aM = \Delta L_0 \\ b = -\frac{\Delta L_0 - \Delta L_1}{m_1} \end{array} \right\} \Rightarrow \Delta L_1 = \Delta L_0 - \frac{\Delta L_0 - \Delta L_1}{m_1} m.$$

Например, при $m = m_2$ получаем $\Delta L_2 = \Delta L_0 - \frac{\Delta L_0 - \Delta L_1}{m_1} m_2 = 0,6 \text{ мм}$. Для третьего значения массы $m = m_3$ мы получим по данной формуле отрицательное значение, но на самом деле наша формула говорит о том, что при $m = \frac{\Delta L_0}{\Delta L_0 - \Delta L_1} m_1 = 250 \text{ г}$ сила натяжения первого троса обращается в ноль, то есть он провисает.

Ясно, что при дальнейшем увеличении массы груза трос останется провисшим, и при $m = m_3 = 300 \text{ г}$ $\Delta L_3 = 0$.

Ответ: $\Delta L_2 = \Delta L_0 - \frac{\Delta L_0 - \Delta L_1}{m_1} m_2 = 0,6 \text{ мм}$, $\Delta L_3 = 0$.

Есть рисунок с указанием всех сил действующих на стержень (или их перечисление)	1
Правильно записано уравнение баланса сил	1
Правильно записано уравнение моментов	2
Получено третье независимое уравнение на силы натяжения, эквивалентное (3)	2
Сделан вывод, что связь ΔL_1 с M и m – линейная и однородная*	2
Получено общее выражение, эквивалентное $\Delta L_1 = \Delta L_0 - \frac{\Delta L_0 - \Delta L_1}{m_1} m$ *	3
Получен правильный ответ при $m = m_2$	2
Получен правильный ответ при $m = m_3$	2
ВСЕГО	15

*Участник можем заменить общие рассуждения о линейности «честным» решением системы (1-3). В этом случае нужно заметить, что из геометрии $L_3 - L_2 = L_2 - L_1 \equiv H$. Поэтому (3) можно переписать в виде

$$2(1 + \varepsilon)T_2 = T_1 + (1 + 2\varepsilon)T_3, \quad \text{где} \quad \varepsilon \equiv \frac{H}{L_1}. \quad \text{Тогда из системы (1-3) находим, что}$$

$$T_1 = \frac{g}{12(1 + \varepsilon)} M - \frac{(2 + 3\varepsilon)g}{3(1 + \varepsilon)} m. \quad \text{Таким образом, здесь линейная однородная зависимость получена в явном}$$

виде. Кроме того, явно обнаружено существование «критической» массы груза $m_c = \frac{M}{4(2 + 3\varepsilon)}$, при

превышении которой первый трос провисает. Для деформации

$$\Delta L_1 = \frac{T_1}{k_1} = \frac{g}{12k_1(1 + \varepsilon)} M - \frac{(2 + 3\varepsilon)g}{3k_1(1 + \varepsilon)} m \equiv aM + bm, \quad \text{и мы снова можем подобрать значения появившихся}$$

констант по двум точкам и получить те же ответы.

Задание 2:

Вопрос: Как связаны между собой изменение внутренней энергии идеального газа и полученное им количество теплоты в изобарном процессе?

Задача: Рабочим телом тепловой машины является постоянное количество одноатомного идеального газа. Цикл рабочего тела на графике в координатах давление-объем имеет вид прямоугольника и состоит из двух изобар и двух изохор. Минимальное давление, максимальное давление и минимальный объем газа в этом цикле зафиксированы, а максимальный объем можно

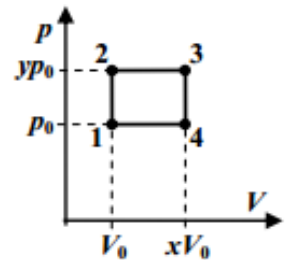
изменять. Оказалось, что при $V_{\max}/V_{\min} = 1,2$ КПД цикла равно 8%. Каким станет КПД цикла при $V_{\max}/V_{\min} = 1,5$?

Ответ на вопрос: Согласно I Началу термодинамики, подведенное количество теплоты есть сумма работы и изменения внутренней энергии: $Q = A + \Delta U$. Внутренняя энергия ν молей идеального газа при температуре T может быть вычислена по формуле $U = \frac{i}{2}\nu RT$, где число степеней свободы молекулы $i = 3$ для одноатомного газа, $i = 5$ для двухатомного и $i = 6$ для многоатомного. В изобарном процессе работа $A = p \cdot \Delta V = \Delta(pV)$, и с учетом уравнения Менделеева-Клапейрона $pV = \nu RT$ видно, что $A = \nu R \Delta T$. Таким образом, $\Delta U = \frac{i}{2} A$, и в результате $Q = \frac{i+2}{2} A = \frac{i+2}{i} \Delta U$.

Есть ссылка на I Начало термодинамики	1
Записано выражение для внутренней энергии идеального газа*	2
Записано выражение для работы в изобарном процессе	2
Использовано уравнение Менделеева-Клапейрона	1
Получена правильная связь $Q = \frac{i+2}{i} \Delta U$ *	4
ВСЕГО	10

*Если все выражения записаны только для одноатомного газа, за эти пункты выставляется половина баллов (1 и 2 соответственно).

Решение задачи: Пусть минимальный объем газа в цикле – это V_0 , а минимальное давление p_0 . Максимальный объем обозначим $x \cdot V_0$, а максимальное давление $y \cdot p_0$. Тогда работа газа в цикле равна его площади $A = (p_{\max} - p_{\min})(V_{\max} - V_{\min}) = p_0 V_0 (x-1)(y-1)$. Теплота поступает к газу от нагревателя в процессах 1-2 (изохора) и 2-3 (изобара). В изохорном процессе работа не совершается, и $Q_{12} = \Delta U_{12} = \frac{3}{2} V_0 (p_2 - p_0) = \frac{3}{2} p_0 V_0 (y-1)$. В изобарном процессе, как видно из ответа на вопрос, $Q_{23} = \frac{5}{3} \Delta U_{23} = \frac{5}{2} p_2 (V_3 - V_2) = \frac{5}{2} p_0 V_0 y (x-1)$. Следовательно,



количество теплоты, полученное газом от нагревателя в этом цикле $Q_H = \frac{p_0 V_0}{2} [3(y-1) + 5y(x-1)]$.

Значит, КПД цикла определяется выражением $\eta = \frac{A}{Q_H} = \frac{2(y-1)(x-1)}{3(y-1) + 5y(x-1)}$. Полезно обратить внимание, что это соотношение можно переписать в виде $\frac{1}{\eta} = \frac{5y}{2(y-1)} + \frac{3}{2(x-1)}$. Как видно, здесь

величина $a \equiv \frac{5y}{2(y-1)} = \frac{5p_{\max}}{2(p_{\max} - p_{\min})}$ постоянна для всех циклов. Используем известное значение

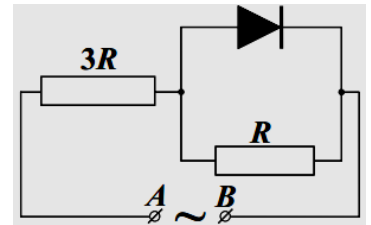
КПД при $x = 1,2$: $12,5 = a + 7,5 \Rightarrow a = 5$ (это соответствует $y = 2$). В результате приходим к выражению $\frac{1}{\eta} = 5 + \frac{3}{2(x-1)}$. Тогда при $x = 1,5$ КПД определяется из соотношения $\frac{1}{\eta} = 5 + 3 = 8 \Rightarrow \eta = 0,125$, то есть 12,5%.

Ответ: 12,5 %.

Записаны правильные выражения для любых двух величин (из списка: работа, теплота нагревателя, теплота холодильника) для данного цикла через давления и объемы либо их соотношения	2+2=4
Получено правильное выражение для КПД цикла, записанное через две независимые переменные, одной из которых является V_{\max}/V_{\min}	3
По заданному значению КПД определено значение второй переменной	3
Получено общее выражение для КПД как функции переменной V_{\max}/V_{\min}	2
Получен правильный ответ для КПД при втором значении этой переменной	3
ВСЕГО	15

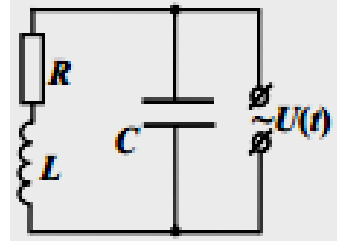
Задание 3:

Вопрос: Найдите действующее значение силы тока в резисторе с сопротивлением $R = 150$ Ом в схеме, показанной на рисунке, если на ее вход АВ подается синусоидальное напряжение с амплитудой $U_m = 300$ В. Диод считайте идеальным.



Задача: Схема из конденсатора с емкостью C , катушки с индуктивностью L и омическим сопротивлением $R = 48$ Ом подключена к источнику синусоидального напряжения с амплитудой $U_m = 300$ В. Известно, что циклическая частота внешнего напряжения в точности равна $\omega = \frac{3}{5\sqrt{LC}}$. Кроме того, параметры схемы связаны

соотношением $\sqrt{\frac{L}{C}} = \frac{5}{4}R$. Найдите амплитуду силы общего тока (в ветви с источником) и сдвиг фаз между этим током и внешним напряжением.



Ответ на вопрос: В ту половину периода T синусоидального напряжения, когда потенциал А выше потенциала В, диода открыт, и резистор с сопротивлением R закорочен, ток через него не идет и тепло не выделяется, так что $Q_I = 0$. При запертом диоде (вторая «половинка синусоиды») через этот резистор течет

ток с амплитудой $\frac{U_m}{4R}$, и в резисторе R выделяется количество теплоты $Q_{II} = \frac{1}{2} \left(\frac{U_m}{4R} \right)^2 R \frac{T}{2} = \frac{1}{64} \frac{U_m^2 T}{R}$

(здесь множитель $\frac{1}{2}$ появляется из-за усреднения квадрата гармонической функции). Полное количество теплоты, выделившееся за период в резисторе R равно $Q = Q_I + Q_{II} = \frac{1}{64} \frac{U_m^2 T}{R}$, и по определению

действующего значения силы тока $I_a^2 RT = \frac{1}{64} \frac{U_m^2 T}{R}$, то есть $I_a = \frac{1}{8} \frac{U_m}{R} = 0,25$ А.

Указано, что в одну половину периода ток через резистор R не течет	1
Указано, что теплота в эту половину периода в нем не выделяется	1
Определено, что во вторую половину периода через резистор R течет синусоидальный ток с амплитудой $\frac{U_m}{4R}$	2
Правильно найдено $Q_{II} = \frac{1}{64} \frac{U_m^2 T}{R}$	3
Правильно найдено действующее значение силы тока (достаточно числа)	3
ВСЕГО	10

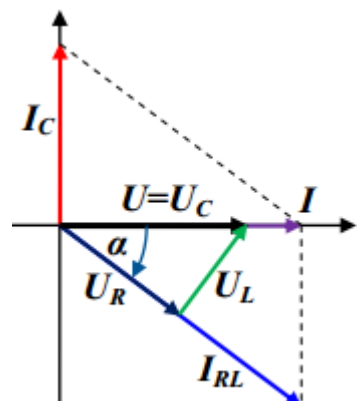
Решение задачи: В данной схеме неидеальную катушку можно рассматривать как последовательно соединенные идеальную индуктивность и резистор. Ток через них – общий, причем напряжение на резисторе колеблется синфазно с током, а напряжение на индуктивности опережает ток по фазе на $\frac{\pi}{2}$.

Поэтому на фазовой диаграмме вектора, отвечающие колебаниям этих напряжений, взаимно перпендикулярны. Однако сумма этих напряжений в любой момент равна напряжению источника, а амплитуды их колебаний относятся как 3:4. В самом деле, если I_{RLm} – амплитуда колебаний их общего

тока, то $U_{Rm} = R \cdot I_{RLm}$, а $U_{Lm} = \omega L \cdot I_{RLm} = \frac{3}{5} \sqrt{\frac{L}{C}} \cdot I_{RLm} = \frac{3}{4} R \cdot I_{RLm}$, в

соответствии с заданными значениями частоты и параметров схемы. Из фазовой диаграммы (см. рисунок) понятно, что

$U_m^2 = U_{Rm}^2 + U_{Lm}^2 = \frac{25}{16} U_{Rm}^2 \Rightarrow U_{Rm} = \frac{4}{5} U_m$ и поэтому $I_{RLm} = \frac{4}{5} \frac{U_m}{R}$. При



этом ток I_{RL} отстает от входного напряжения по фазе на $\alpha = \arcsin\left(\frac{3}{5}\right)$. С другой стороны, напряжение на конденсаторе равно напряжению источника. Ток через конденсатор с амплитудой

$I_{Cm} = \omega C \cdot U_m = \frac{3}{5} \sqrt{\frac{C}{L}} U_m = \frac{12 U_m}{25 R}$ опережает напряжение по фазе на $\frac{\pi}{2}$. Складывая колебания токов через ветви, получаем колебания общего тока схемы. Можно определить проекции вектора, отвечающего колебаниям общего тока, на оси диаграммы: $I_x = I_{RLm} \cos(\alpha) = \frac{16 U_m}{25 R}$ и $I_y = I_{Cm} - I_{RLm} \sin(\alpha) = 0$. Таким образом, амплитуда колебаний силы общего тока равна $I_m = \frac{16 U_m}{25 R} = 4 \text{ А}$, а сдвиг фаз между этим током и входным напряжением $\varphi = 0$.

Ответ: $I_m = \frac{16 U_m}{25 R} = 4 \text{ А}$, $\varphi = 0$.

Указано (используется в решении), что колебания напряжения на индуктивности катушки опережают по фазе колебания напряжения на ее сопротивлении на $\pi/2$	1
Правильно построен (прямоугольный) треугольник для напряжений $U_R + U_L = U = U_C$ на фазовой диаграмме	2
Правильно найдена амплитуда силы тока через катушку $I_{RLm} = \frac{4 U_m}{5 R}$	2
Правильно найдено смещение по фазе тока через катушку от входного напряжения ($-\alpha$)	1
Правильно найдена амплитуда силы тока через конденсатор $I_{Cm} = \frac{12 U_m}{25 R}$	2
Правильно построена треугольник токов $I_{RL} + I_C = I$ на фазовой диаграмме	2
Правильно найдена амплитуда общего тока (число)	3
Определено, что сдвиг фаз между общим током и входным напряжением отсутствует	2
ВСЕГО	15

Примечание: Участники имеют право использовать метод комплексных амплитуд. В этом случае комплексное сопротивление схемы Z определяется из соотношения

$$\frac{1}{Z} = i\omega C + \frac{1}{R + i\omega L} = \frac{1}{R} \left[\frac{12}{25} i + \frac{4}{4 + 3i} \right] = \frac{1}{25R} [12i + 4(4 - 3i)] = \frac{16}{25R}.$$

Следовательно, фазовый сдвиг между током и напряжением отсутствует, а $I_m = \frac{16 U_m}{25 R} = 4 \text{ А}$.

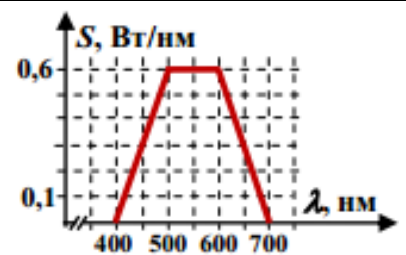
Задание 4:

Вопрос: Световое излучение – это разновидность *электромагнитных волн*, причем разные цвета отличаются друг от друга *длиной волны λ* . В таблице ниже приведена связь между длиной волны в нанометрах ($1 \text{ нм} = 10^{-9} \text{ м}$) и видимым цветом:

красный	оранжевый	желтый	зеленый	голубой	синий	фиолетовый
625-740 нм	590-625 нм	565-590 нм	500-565 нм	485-500 нм	440-485 нм	380-440 нм

На графике показан *спектр* источника света с мощностью излучения 120 Вт, то есть зависимость величины $S \equiv \frac{\Delta P}{\Delta \lambda} |_{\Delta \lambda \rightarrow 0}$

(где ΔP – мощность излучения, приходящаяся на интервал длин волн $\Delta \lambda$), от длины волны. Весь свет от этого источника проходит через оранжевый светофильтр, который практически полностью пропускает излучение длин волн из этого диапазона, и практически не пропускает излучение других длин волн. Найдите мощность прошедшего света.

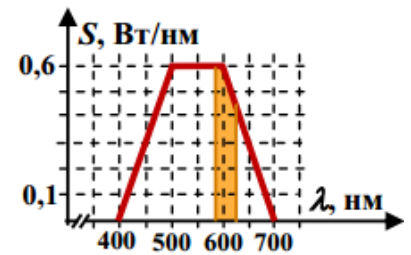


Задача: Сила тока фотодатчика прямо пропорциональна мощности светового излучения, поступающего в его «входное окно». Этот датчик разместили на небольшом роботе так, что он всегда «смотрит» вперед по ходу движения робота. Робот едет по прямой трассе с постоянной скоростью $v = 2 \text{ м/с}$ на полигоне, на котором единственным источником освещения является небольшая яркая лампа, светящая равномерно во всех направлениях. В некоторый момент времени ($t_1 \equiv 0$) сила тока фотодатчика оказалась равна $I_1 = 39 \text{ мА}$, к моменту $t_2 = 3,5 \text{ с}$ она увеличилась до $I_2 = 52 \text{ мА}$, а в момент $t_3 = 8 \text{ с}$ впервые обратилась в ноль. На каком расстоянии от трассы установлена лампа? Воздух между лампой и фотодатчиком считать полностью прозрачным.

Ответ на вопрос: По смыслу величины S понятно, что площадь под графиком этой величины – это

мощность (нетрудно, например, заметить, что площадь под всем графиком в точности равна 120 Вт). Оранжевый светофильтр пропустит из всего излучения только то, для которого длины волн лежат в полосе от 590 нм до 625 нм. Значит, мощность прошедшего света соответствует площади под графиком в этой полосе (выделенная фигура на рисунке). Эта фигура состоит из прямоугольника и трапеции, так что

$$P' = 0,6(\text{Вт/нм}) \times 10\text{нм} + \frac{0,6(\text{Вт/нм}) + 0,45(\text{Вт/нм})}{2} \times 25\text{нм} \approx 19\text{Вт}.$$



Указано, что площадь под графиком введенной величины – это мощность	4
Указано, что мощность прошедшего через светофильтр света – площадь под графиком в полосе диапазона от 590 нм до 625 нм	3
Получен правильный ответ (число – зачетный диапазон от 18,8 до 19,4 Вт*)	3
ВСЕГО	10

*При попадании в только диапазон от 18,3 до 20 Вт ставится 2 балла, в диапазон от 18 до 20,4 Вт – 1 балл.

Решение задачи: Начнем с того, что разберемся, как показания фотодатчика должны зависеть от времени. Так как излучение лампы сферически симметрично, а площадь сферы растет пропорционально квадрату ее радиуса, то приходящаяся на заданную площадь мощность излучения на расстоянии r от лампы

$$P(r) = \frac{P_0 r_0^2}{r^2}, \text{ где } r_0 - \text{минимальное расстояние от трассы до лампы, на котором мощность равна } P_0.$$

Однако нужно еще учесть, что входное окно датчика не направлено на лампу, а «смотрит» вперед по ходу движения. При повороте окна датчика на угол α от направления на лампу площадь, с которой в окно попадают лучи, уменьшается по закону $S = S_0 \cos(\alpha)$. С другой стороны (см.

рисунок), $\cos(\alpha) = \frac{x}{r}$, где x – расстояние от робота до точки наибольшего

сближения с лампой. Таким образом, сила тока фотодатчика изменяется по

$$\text{закону } I(t) = C \frac{x}{r^3} = C \frac{x}{(r_0^2 + x^2)^{3/2}}, \text{ где } C - \text{некоторая постоянная. Как видно, момент обращения силы}$$

тока в ноль соответствует прохождению точки наибольшего сближения ($x=0$), и с учетом закона движения робота можно записать $x(t) = v(t_3 - t)$. В результате мы можем записать два независимых соотношения для известных значений силы тока фотодатчика, и найти из них искомую величину r_0 :

$$\left\{ \begin{array}{l} I_1 = C \frac{v(t_3 - t_1)}{[r_0^2 + v^2(t_3 - t_1)^2]^{3/2}} \\ I_2 = C \frac{v(t_3 - t_2)}{[r_0^2 + v^2(t_3 - t_2)^2]^{3/2}} \end{array} \right\} \Rightarrow z \equiv \left[\frac{I_2(t_3 - t_1)}{I_1(t_3 - t_2)} \right]^{2/3} = \frac{r_0^2 + v^2(t_3 - t_1)^2}{r_0^2 + v^2(t_3 - t_2)^2},$$

откуда $r_0 = v \sqrt{\frac{(t_3 - t_1)^2 - z(t_3 - t_2)^2}{z - 1}}$. Подставляя числовые данные, обнаруживаем, что $z = \frac{16}{9}$ и

$$r_0 = 12\text{м}.$$

$$\text{Ответ: } r_0 = v \sqrt{\frac{(t_3 - t_1)^2 - z(t_3 - t_2)^2}{z - 1}} = 12\text{м, где } z \equiv \left[\frac{I_2(t_3 - t_1)}{I_1(t_3 - t_2)} \right]^{2/3}.$$

Указано (используется в решении), что приходящаяся на заданную площадь мощность излучения убывает обратно пропорционально квадрату расстояния от лампы	2
Указано (используется в решении), что при повороте окна датчика от направления на лампу площадь, с которой в окно попадают лучи, уменьшается по закону $S = S_0 \cos(\alpha)$	2
Обнаружено, что сила тока фотодатчика изменяется по закону $I(t) = C \frac{x(t)}{(r_0^2 + x^2(t))^{3/2}}$	3
Указано (используется в решении), что момент t_3 отвечает $x = 0$	1
Правильно записана полная система уравнений, из которой можно найти r_0	3
Получена правильное аналитическое выражение для r_0	2
Получен правильный численный ответ для r_0	2
ВСЕГО	15

